

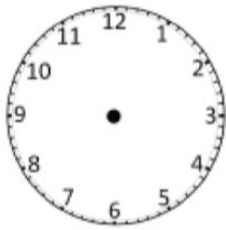


Μαθαίνω την **ώρα** με τον εξωγήινο 4.

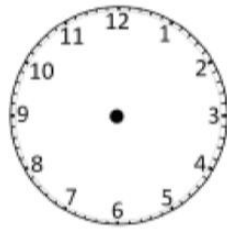


Μέτρηση του χρόνου

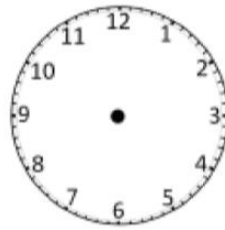
1. Οι δυο φίλοι κάνουν μια τελευταία προσπάθεια να εξασκηθούν στην εκμάθηση της ώρας. Προσπαθούν να συμπληρώσουν τους δείκτες που λείπουν ώστε τα ρολόγια να δείχνουν σε κάθε περίπτωση τη σωστή ώρα.



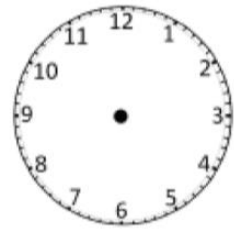
10:15



18:10



6:55








5:45


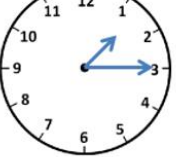




2. Παρακάτω προσπαθούν να κάνουν τις σωστές αντιστοιχίσεις. Ε, βοήθα λιγάκι και συ!!!

	5 και τέταρτο	5:15
	3 ακριβώς	4:45
	5 παρά τέταρτο	3:00
	8 ακριβώς	10:30
	10 και μισή	8:00



	6 και τέταρτο	1:45
	1 ακριβώς	6:15
	2 παρά τέταρτο	1:30
	4 παρά τέταρτο	1:00
	1 και μισή	3:45



	7:40	
6:05		1:15
	5:10	
8:20		10:45

