



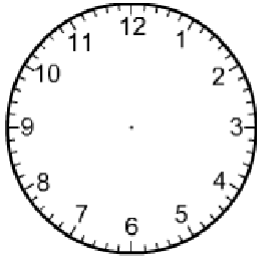
Μαθαίνω την ώρα με τον εξωγήινο 1.



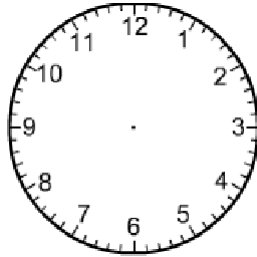
Μέτρηση του χρόνου

(Διάβασε από το έντυπο «Μαθαίνω την ώρα με τον εξωγήινο - θεωρία» μέχρι εκεί που μιλάει ο Κώστας. Ύστερα δες το βιντεάκι «Διαβάζω την ώρα» και μετά ασχολήσου με αυτό το φύλλο εργασίας.)

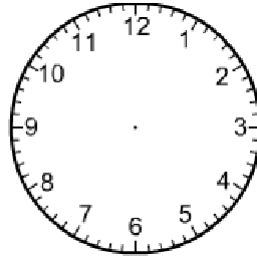
1. Ο Κώστας και ο εξωγήινος κάνουν εξάσκηση για να μάθουν καλά την ώρα. Βοήθησέ τους να βάλουν τους δείκτες του ρολογιού στη θέση που πρέπει!



9 και μισή



8 και τέταρτο



7 ακριβώς



2. Δυσκολεύουν τα πράγματα! Βοήθησέ τους να βρουν τι ώρα λένε τα ρολόγια!



3. Οι δυο τους λένε πως την έμαθαν την ώρα, και ζητούν από σένα να γράψεις κάτω από κάθε ρολόι τι ώρα είναι, για να δουν αν την έμαθες κι εσύ!





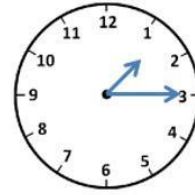




4. Ο εξωγήινος μπερδεύεται με όσα βλέπει παρακάτω! Βοήθησέ τον να κάνει την αντιστοίχιση!

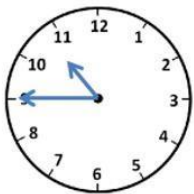


8 παρά 20

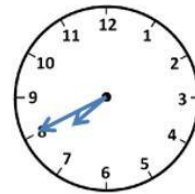


1 και τέταρτο

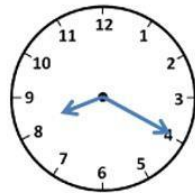
6 και 5



5 και 10



8 και 20




11 παρά τέταρτο

5. «Το παιχνίδι με την ώρα» των δύο φίλων ξεκίνησε στις 3 ακριβώς και σταμάτησε μετά από μία ώρα και 40 λεπτά. Τι ώρα έδειχνε το ρολόι όταν τελείωσαν; Σχεδίασε τους δείκτες στα ρολόγια.

Ξεκίνησε στις 3 ακριβώς.

Σταμάτησε στις



Ευχαριστώ για τη βοήθεια!

